



41




Il Bianco ha l'arrocco compromesso. Sfruttare l'indebolimento.

43




Il Bianco sta minacciando di giocare Cf6+ e prendere una Torre e nel frattempo vuole cambiare il proprio Cavallo con l'Alfiere Nero. Come rispondereste?

42



Il Nero ha i propri pezzi pronti per un attacco contro il Re Bianco. Cosa giocare?

44



Il Bianco riponendo le sue ultime speranze nel suo pedone passato giocò Da5-b6 liberando la strada al pedone e impedendo al Nero di giocare Db7. Come confutare questo calcolo?