



53




Il Bianco analizzò che dopo 1.Ce5 se il Nero avesse catturato il pedone d4 con la seguente variante: 1...Cxd4 2.Cxc6 Dxe4+ 3.Ae3 bxc6 4.Cc3 Dxc2, si sarebbe ritrovato sì con due pedoni in meno, ma in netto vantaggio di sviluppo. Come continuare la variante?

55




Il Nero giocò 1...Cd3, attaccando l'Alfiere in b2 e minacciando matto in h2. Valutare le conseguenze di 2.Axh7+.

54



Cosa accade se il Nero decide di catturare il Pedone Bianco in e5?

56



Valutare il finale!