



69




Il Bianco si ritrova con un Pedone e una qualità in meno. Ha delle possibilità per salvarsi?

71




Il Bianco sta minacciando matto con Dh8 e Th4 catturando la Donna alla mossa successiva. Cosa deve giocare il Nero?

70



Il Nero ha un deciso vantaggio di materiale e giocò 1...Dxf3. Valutare questa mossa.

72



Il Bianco si ritrova con una Torre in meno e la sua unica speranza riposta nel pedone passato h sta per svanire. Trovare una soluzione!